





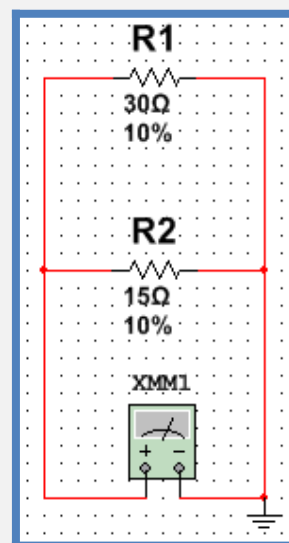
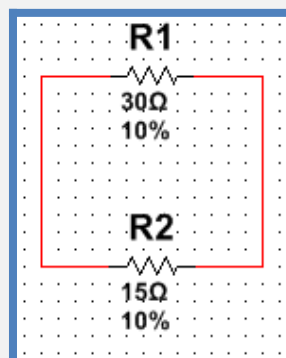
РАБОТНА КАРТА 11: ПАРАЛЕЛНО СВЪРЗВАНЕ НА КОНСУМАТОРИ

 ОТ ПАПКА ПАРАЛЕЛНО СВЪРЗВАНЕ НА КОНСУМАТОРИ ОТВОРЕТЕ ФАЙЛ "ЕКВИВАЛЕНТНО СЪПРОТИВЛЕНИЕ.ms12".

 ИЗЧИСЛЕТЕ В ТЕТРАДКИТЕ ЕКВИВАЛЕНТНОТО СЪПРОТИВЛЕНИЕ НА СХЕМАТА.

 СВЪРЖЕТЕ ОММЕТЪР И ИЗМЕРЕТЕ ЕКВИВАЛЕНТНОТО СЪПРОТИВЛЕНИЕ. СРАВНЕТЕ ИЗЧИСЛЕНАТА С ИЗМЕРЕНАТА СТОЙНОСТ.

 ЗАХРАНЕТЕ СХЕМАТА С ПОСТОЯННО НАПРЕЖЕНИЕ С ГОЛЕМИНА 60 ВОЛТА.





ЕЛЕКТРОТЕХНИКА



ИЗЧИСЛЕТЕ ТОКОВЕТЕ
ВЪВ ВЕРИГАТА.



СВЪРЖЕТЕ АМПЕРМЕТРИ
И ИЗМЕРЕТЕ ТОКОВЕТЕ.
СРАВНЕТЕ ИЗМЕРЕНИТЕ СТОЙНОСТИ
С ИЗЧИСЛЕНИТЕ.

