




ГРАДИВНИ ЕЛЕМЕНТИ

РАБОТНА КАРТА 4: ПОСТОЯННОТОКОВО ЗАХРАНВАНЕ НА БИПОЛЯРЕН ТРАНЗИСТОР

 СТАРТИРАЙТЕ ФАЙЛ „ПОСТОЯННОТОКОВО ЗАХРАНВАНЕ НА ТРАНЗИСТОР 1“, С РАЗШИРЕНИЕ .ms12.

 ОБЯСНЕТЕ РЕЗУЛТАТА .

 СТАРТИРАЙТЕ ФАЙЛ „ПОСТОЯННОТОКОВО ЗАХРАНВАНЕ НА ТРАНЗИСТОР 2“, С РАЗШИРЕНИЕ .ms12. ЗАПИШЕТЕ ПОКАЗАНИЯТА НА ИЗМЕРИТЕЛНИТЕ УРЕДИ В ТЕТРАДКИТЕ.

 ПОСЛЕДОВАТЕЛНО ПРОМЕНЯЙТЕ ЗАХРАНВАЩОТО НАПРЕЖЕНИЕ НА ПРЕХОДА БЕ НА 0,65 V, 0,7 V, 0,75 V И ЗАПИШЕТЕ ПОКАЗАНИЯТА НА УРЕДИТЕ В ТЕТРАДКИТЕ. КОМЕНТИРАЙТЕ РЕЗУЛТАТИТЕ.

