




ЕЛЕКТРОТЕХНИКА

РАБОТНА КАРТА **10**: ПОСЛЕДОВАТЕЛНО СВЪРЗАВАНЕ НА КОНСУМАТОРИ


 ОТ ПАПКА
ПОСЛЕДОВАТЕЛНО СВЪРЗАНИ
КОНСУМАТОРИ ОТВОРЕТЕ ФАЙЛ
"ЕКВИВАЛЕНТНО
СЪПРОТИВЛЕНИЕ.ms12".

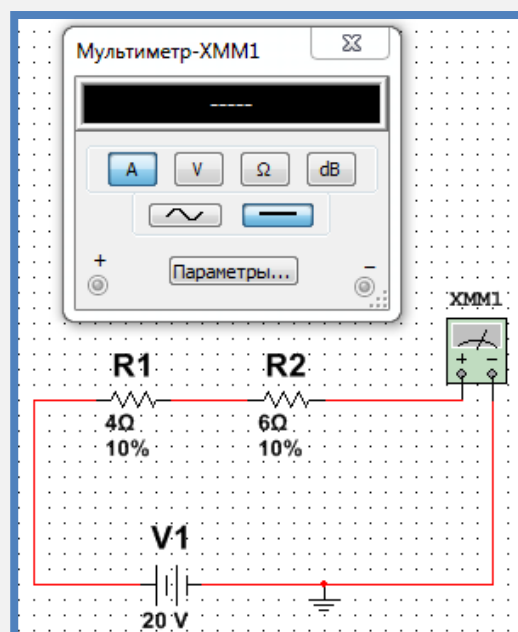
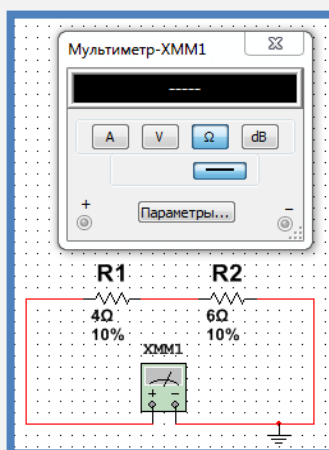
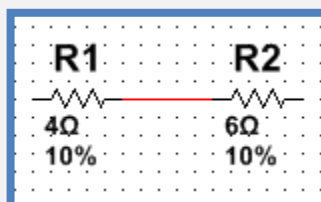
 ИЗЧИСЛЕТЕ В ТЕТРАДКИТЕ
ЕКВИВАЛЕНТНОТО СЪПРОТИВЛЕНИЕ
НА СХЕМАТА.

 СВЪРЖЕТЕ ОММЕТЪР И
ИЗМЕРЕТЕ ЕКВИВАЛЕНТНОТО
СЪПРОТИВЛЕНИЕ. СРАВНЕТЕ
ИЗЧИСЛЕНАТА С ИЗМЕРЕНАТА
СТОЙНОСТ.

 ЗАХРАНЕТЕ СХЕМАТА С
ПОСТОЯННО НАПРЕЖЕНИЕ С
ГОЛЕМИНА 20 ВОЛТА.

 ИЗЧИСЛЕТЕ ТОКА ВЪВ
ВЕРИГАТА.

 СВЪРЖЕТЕ АМПЕРМЕТЪР
И ИЗМЕРЕТЕ ТОКА.
СРАВНЕТЕ ИЗМЕРЕНАТА СТОЙНОСТ
НА ТОКА С ИЗЧИСЛЕНАТА.



ЕЛЕКТРОТЕХНИКА



ИЗЧИСЛЕТЕ В ТЕТРАДКИТЕ
ДВАТА СПАДА НА НАПРЕЖЕНИЕ.



СВЪРЖЕТЕ ВОЛТМЕТРИ И
ИЗМЕРЕТЕ ДВАТА СПАДА НА
НАПРЕЖЕНИЕ.
СРАВНЕТЕ ИЗМЕРЕНИТЕ И
ИЗЧИСЛЕНИТЕ СТОЙНОСТИ .

